

IIIe REPUBLIQUE

Justifiez l'affirmation suivante : « la France se dote d'un régime stable qui reprend et approfondit l'ensemble des principes de 1789 ».

Justifiez l'affirmation suivante : « le projet républicain affirme des libertés fondamentales et unifie la nation autour des valeurs de 1789 (symboles, lois scolaires...) ».

Justifiez l'affirmation suivante : « la Troisième République est une démocratie ».

Définissez ce que sont les libertés fondamentales.

Citez deux libertés fondamentales.

Définissez la notion de laïcité.

Proposez une définition de la laïcité.

Citez le nom d'un homme politique français associé aux lois scolaires de la Troisième République.

CRISES – DREYFUS

Citez deux crises auxquelles la IIIe République fut confrontée.

À l'aide d'un exemple étudié en classe, définissez ce qu'est l'antisémitisme.

Définissez l'antisémitisme.

Justifiez l'affirmation suivante : « l'affaire Dreyfus a divisé la société française »

Citez un dreyfusard célèbre. Justifiez votre choix.

COLONISATION

Caractériser la société coloniale.

Caractériser le fonctionnement des sociétés coloniales sous la Troisième République, avant 1914.

« La colonisation repose sur des rapports inégaux entre colons et colonisés ». Justifiez cette affirmation.

Citez deux acteurs majeurs des rivalités coloniales européennes.




Sur la carte (en annexe), localisez et nommez :

- Une colonie française en Afrique et en Asie.
- Deux métropoles coloniales.

Annexe :

Le monde colonial en 1914



	Métropole coloniale		Une colonie française en Asie.
	Une colonie française en Afrique		

5. Sur la carte proposée :

-identifiez les Empires coloniaux représentés par les chiffres 1 et 2 (complétez la légende).



-localisez et indiquez le nom d'une colonie en Afrique et une colonie en Asie.

Annexe :

Le monde colonial en 1914



Légende à compléter :

1	
2	
	Colonie en Afrique
	Colonie en Asie