



Première partie : questions (sur 10 points)

Histoire :

1. Complétez la frise chronologique (annexe 1 à rendre avec la copie) :
 - a- Dans la légende et sur la frise, identifiez et coloriez les deux phases de la Seconde Guerre mondiale.
 - b- Nommez les événements présents sur la frise chronologique.

2. Dated (jour-mois-année) la chute du mur de Berlin.

Géographie :

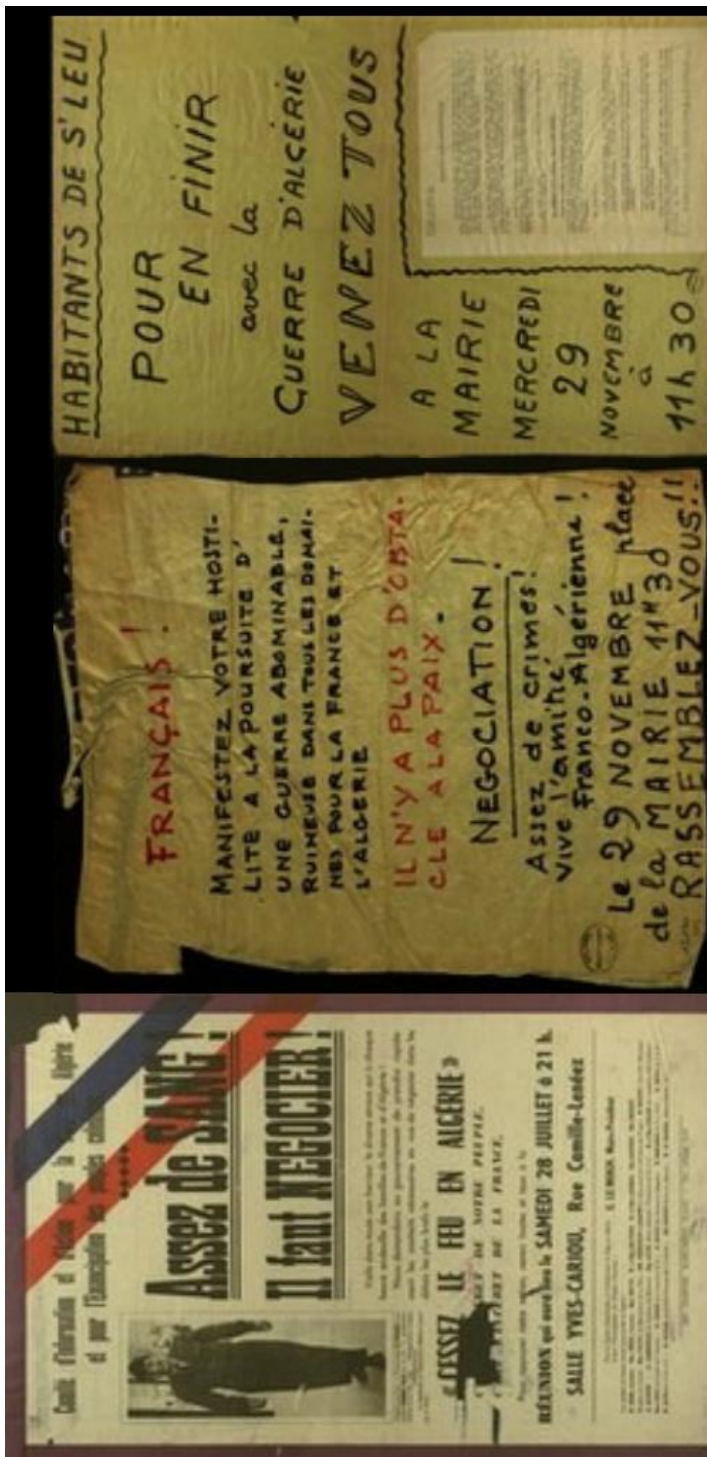
3. Définissez la notion de maritimisation.

4. Caractérissez la place des littoraux dans la mondialisation.

5. Complétez le planisphère (annexe 2 à rendre avec la copie) en indiquant :
 - deux détroits internationaux
 - deux canaux internationaux
 - deux grandes routes maritimes



Document 2 : Affiche du Comité d'Information et d'Action pour la paix en Algérie et l'Émancipation des peuples coloniaux, juillet 1956 et affiches manuscrites du Comité de paix de Saint-Leu-La-Forêt, 1961.



Sources : Archives départementales du Val-d'Oise 1Z 225 (1), 1Z 170(1) et 1Z 170 (2).

Modèle CCYC : ©DNE

Nom de famille (naissance) :

(Suivi s'il y a lieu, du nom d'usage)

Prénom(s) :

N° candidat : **N° d'inscription** :

(Les numéros figurent sur la convocation.)

Né(e) le : / /



1.1

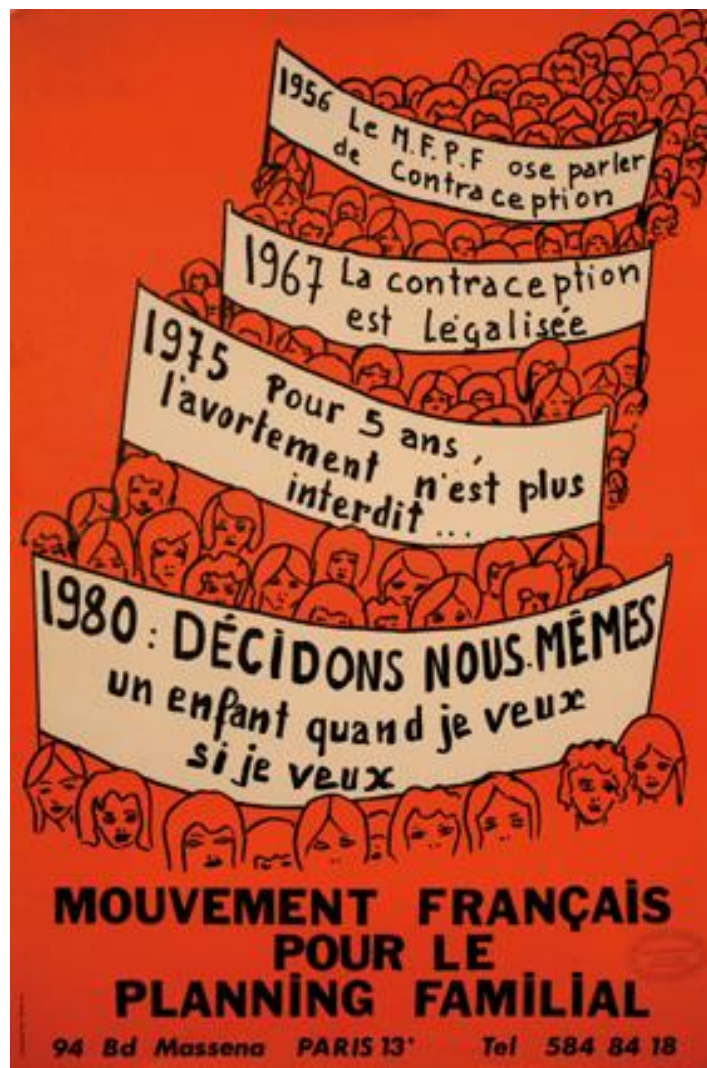
Questions :

- 1- Décrivez les conditions du service militaire effectué par Jean-Paul Grauffel en Algérie. (Document 1)
- 2- Expliquez les deux phrases soulignées dans le document 1.
- 3- Identifiez les arguments des opposants à la guerre d'Algérie. (Document 2)
- 4- Décrivez les moyens utilisés pour dénoncer la guerre et expliquez les objectifs recherchés. (Document 2)
- 5- À l'aide des documents et de vos connaissances, vous justifierez l'affirmation suivante : « La guerre d'Algérie a mobilisé une génération de jeunes appelés et réservistes mais a aussi divisé la population ».



Sujet d'étude 2 : l'évolution de la place et des droits des femmes dans la société française

Document : « 1980 : décidons nous-mêmes » (cote AVO106), affiche du Planning familial (40 x 60 cm), Paris, Centre de Documentation du MFPF (Mouvement Français pour le Planning Familial) © MFPF.



Note :

1. Le Planning familial est un mouvement militant qui défend le droit à la contraception, à l'avortement et à l'éducation à la sexualité.

Source : Planning familial France, "1980 : décidons nous-mêmes (cote AVO106)," *MUSEA* (Musée virtuel sur l'histoire des femmes et du genre), <http://www.musea.fr/items/show/950>, consulté le 22 septembre 2020.

Modèle CCYC : ©DNE

Nom de famille (naissance) :


(Suivi s'il y a lieu, du nom d'usage)

Prénom(s) :

N° candidat : **N° d'inscription** :

(Les numéros figurent sur la convocation.)

Né(e) le : / /



RÉPUBLIQUE FRANÇAISE

1.1

Questions :

1. Présentez la nature et la source du document.
2. Nommez précisément les auteurs des deux lois évoquées dans le document.
3. Identifiez les évolutions de la société présentes dans le document.
4. Citez trois moyens qui ont permis d'améliorer la situation des femmes.
5. En vous appuyant sur le document et sur vos connaissances personnelles, montrez l'évolution de la place et des droits des femmes dans la société française depuis 1945.

